

Mestieri dell'epoca romana e mestieri attuali – allegato 1

I. Un pendaglio romano

A. Osserva e descrivi la seguente immagine.



II secolo d.C. - Museo Nazionale Romano (Roma)

B. Leggi l'iscrizione incisa sull'oggetto che hai osservato e descritto.



II secolo d.C. - Museo Nazionale Romano (Roma)

Fugi, tene me; cum revocaveris me domino meo Zonino, accipies solidum.

Sono fuggito, prendimi; quando mi avrai riconsegnato al mio padrone Zonino, riceverai un soldo.

C. Rispondi ora alle seguenti domande.

1. Quale oggetto è raffigurato in queste immagini?

.....

2. Chi lo indossava?

.....

3. Perché veniva portato?

.....

.....

II. Alcuni aspetti della schiavitù nell'antica Roma

A. Che cosa significa essere schiavi nell'antica Roma?

1. Leggi il seguente testo, tratto dalle *Istituzioni* di Gaio, un giurista latino vissuto nel II secolo d.C.

Vi sono tre tipi di utensili: quelli che non si muovono e non parlano, quelli che si muovono e non parlano e quelli che si muovono e parlano.

Testo tradotto e adattato da GAIO, *Istituzioni*, II, 12, 17.

2. Rispondi ora alle seguenti domande.

a. Quali sono gli utensili che *non si muovono e non parlano*?

b. Quali sono quelli che *si muovono e non parlano*?

c. E quelli che *si muovono e parlano*?

d. Come venivano considerati gli schiavi nell'antica Roma?

B. Come si diventava schiavi nell'antica Roma?

Nell'antica Roma la schiavitù era ereditaria: i figli degli schiavi erano schiavi fin dalla nascita. Tuttavia anche gli uomini liberi potevano essere ridotti in schiavitù nel corso della loro vita e ciò accadeva soprattutto per due motivi:

1.

a. Leggi i seguenti testi tratti dalle opere di alcuni famosi storici dell'Antichità.

- *[Nel 262 a.C.], dopo sei mesi di assedio, i Romani presero possesso di Agrigento e deportarono venticinquemila schiavi.*

Testo tradotto e adattato da DIODORO SICULO, *Biblioteca storica*, XXIII, 9, 1.

- *[Nel 167 a.C.] l'esercito romano conquistò l'Epiro, regione da cui furono deportati centocinquantamila schiavi.*

Testo tradotto e adattato da TITO LIVIO, *Storia di Roma dalla sua fondazione*, XLV, 34, 5.

- *[Nel 146 a.C.] i Romani annientarono Cartagine e fecero prigionieri venticinquemila donne e trentamila uomini, che furono venduti come schiavi.*

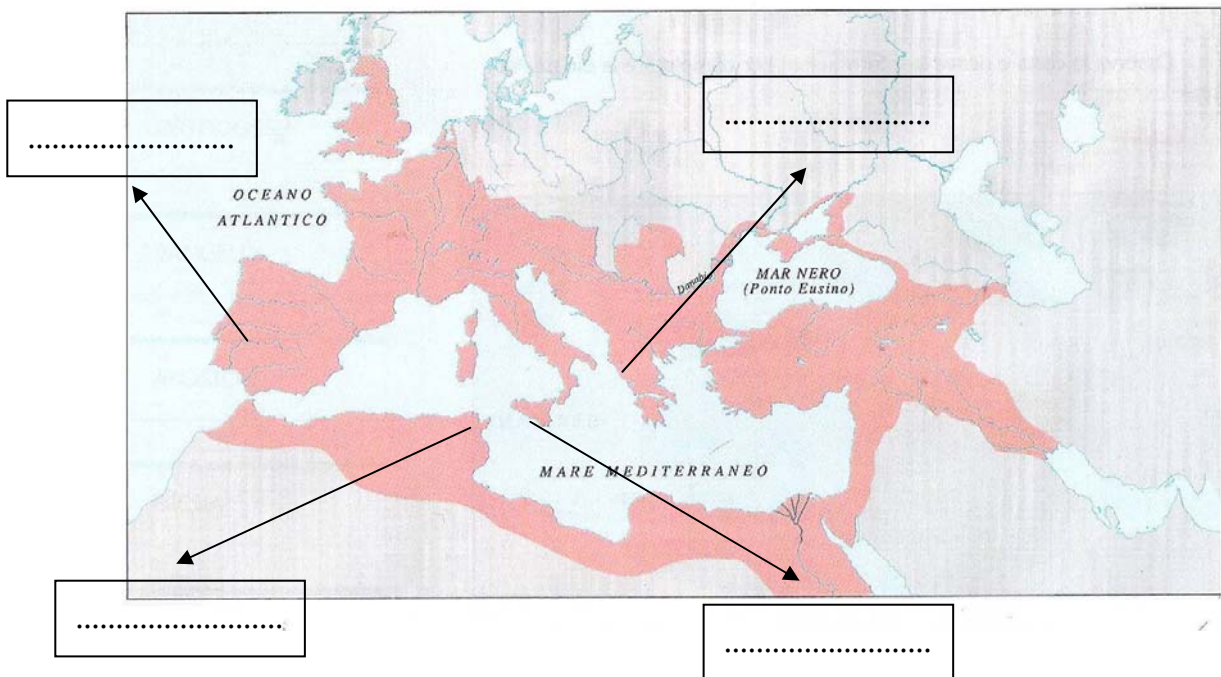
Testo tradotto e adattato da OROSIO, *Le storie contro i pagani*, IV, 23,2-3.

- *Le truppe romane si impadronirono della Lusitania [nel 142 a.C.] e fecero diecimila prigionieri. Cinquecento di loro furono decapitati, tutti gli altri divennero schiavi.*

Testo tradotto e adattato da APPIANO, *Storia romana*, VI, 67, 4.

b. Colloca nella cartina geografica sottostante le località (città o regioni) citate nei testi letti.

L'impero romano nel II secolo d.C.



c. Grazie alle informazioni che puoi ricavare dai testi letti, completa la seguente tabella.

Data	Località (città o regione)	Numero di schiavi
.....
.....
.....
.....

d. Come divennero schiavi migliaia di uomini?

.....

2.

a. Leggi il seguente testo tratto dalla *Storia di Roma dalla sua fondazione* di Tito Livio, scrittore latino vissuto tra il I secolo a.C. e il I secolo d.C.

Giunse nel Foro un uomo d'età avanzata, pallido, magro e coperto di luridi cenci. A coloro che gli chiedevano come mai fosse così mal ridotto, rispose: "Mentre ero in guerra, un incendio ha distrutto la mia fattoria e ho perso ogni mio bene. Per poter sopravvivere, ho contratto dei debiti, ma non sono riuscito a pagarli. Per questo motivo il mio creditore mi ha ridotto in schiavitù".

Testo tradotto e adattato da TITO LIVIO, *Storia di Roma dalla sua fondazione*, II, 23, 3-6.


b. Rispondi ora alle seguenti domande.

- Che cosa capitò al vecchio descritto da Tito Livio, mentre era in guerra?
.....
- Che cosa dovette fare per sopravvivere?
- Perché divenne uno schiavo?

c. Quali attività svolgevano gli schiavi nell'antica Roma?

Osserva le seguenti immagini e indica le mansioni svolte dagli schiavi nell'antica Roma.

1.



Mosaico del III secolo d.C. - Museo Nazionale del Bardo (Tunisi)

.....

2.



Rilievo del II secolo d.C. - Museo Archeologico (Venezia)

.....

3.



Rilievo del III secolo d.C. - Landesmuseum (Teviri)

.....

4.



Dipinto del III secolo d.C. - Museo del Louvre (Parigi)

.....

5.



Mosaico del II secolo d.C. - Museo Nazionale Romano (Roma)

.....


6.



Rilievo del III secolo d.C. - Landesmuseum (Trier)

.....

7.



Rilievo del II secolo d.C. - Chiesa di Maria Saal (Austria)

.....


8.



Rilievo del III secolo d.C. - Museo Nazionale (Ravenna)

.....

9.



Mosaico del IV secolo d.C. - Villa Borghese (Roma)

.....

III. Esercitazione

A. Osserva e descrivi questa immagine.



I secolo d.C. - Museo Nazionale Romano (Roma)

B. Rispondi ora alle seguenti domande.

1. Quale oggetto è raffigurato in questa immagine?
2. Chi lo indossava?
3. Come venivano considerati questi esseri umani nell'antica Roma?
4. Come si diveniva tali?
5. Erano importanti per l'economia dell'antica Roma? Motiva la tua risposta.